

## MATEMATİK SEÇME SORULARLA GENEL DEĞERLENDİRME-2




**\*\*** Bir satıcı aşağıdaki fındıklardan öğleden önce 4 kilogram, öğleden sonra 5 kilogram satmıştır. Bu satıcı kaç TL kazanmıştır?

- A) 70      B) 80      C) 90



**\*\*\*\*\*** Yandaki trenin vagonlarından her birinde bir önceki vagona bulunan yolcunun 2 katı kadar yolcu vardır. Buna göre trende toplam kaç yolcu vardır?

- A) 45      B) 24      C) 12



**\*\*\*\*\*** Şenay, marketten yandaki yumurta kutusundan 4 kutu aldı. Yolda kutularda bulunan yumurtalardan 28 tanesini kırdı. Şenay'in sağlam kaç yumurtası kalmıştır?

- A) 48      B) 20      C) 18



8 kuzu



6 horoz


**\*\*** Ahmet'in bahçesindeki kuzu ve horoz sayıları aşağıda verilmiştir. Buna göre hayvanların ayak sayıları toplamı kaçtır?

- A) 44      B) 32      C) 12




**\*\*\*** Yandaki buketlerde bulunan toplam papatya sayısını aşağıdaki çarpma işlemlerinden hangisiyle gösteririz?

- A)  $5 \times 3 =$       B)  $3 \times 4 =$       C)  $4 \times 3 =$



**\*\*\*\*\*** Yandaki parkın çevresinde koşu yapan Mehmet, A noktasından başlayıp 58 metre koşmuştur. Mehmet, kaç metre daha koşarsa parkın çevresini koşmuş olur?

- A) 90      B) 42      C) 32





**\*\*\*\*** Gizem, Hakan'dan 2 santimetre kısa. Tuncay, Gizem'den 5 santimetre uzundur. Buna göre Tuncay'ın boyu kaç santimetredir?

- A) 92      B) 91      C) 87



**\*\***Yandaki tuğlanın 8 tanesi üst üste yerleştiriliyor. Buna göre oluşan şeklin yüksekliği kaç santimetredir?  
A) 16 B) 24 C) 32


$$\begin{array}{r} 2 \\ \triangle 2 \\ + 15 \\ \hline 74 \end{array}$$

**\*\*\***Yandaki toplama işlemine göre  +  = kaç eder?  
A) 7 B) 11 C) 10




Dedemin verdiği parayla 70 TL param oldu.

**\*\*\*** Elif'e annesi 27 TL , babası 26 TL verdi. Dedesi, Elif'e kaç TL vermiştir?  
A) 53 B) 17 C) 27



**\*\*\*\***Yandaki tencerenin yarısı 6 bardak su ile dolmaktadır. 2 tencere, kaç bardak su ile dolar?  
A) 12 B) 28 C) 24


XX



**\*\*\*\*** Yılmaz 37, Esra 48, Erol ise 66 kg'dır. Yılmaz ile Esra tartıya beraber çıktıklarında Erol' dan kaç kilogram fazla gelirler?

**\*\*\*\*** Görsele göre, 1 kovayı doldurmak için kaç fincan su gereklidir?  
A) 24 B) 36 C) 45

A) 19 B) 18 C) 29



**\*\***Yukarıdaki tabaklarda bulunan toplam armut sayısını aşağıdaki çarpma işlemlerinden hangisiyle gösteririz?

A)  $3 \times 6 =$

B)  $6 \times 3 =$

C)  $6 \times 6 =$

Mustafa ÇALIŞKAN